

پاسخ‌نامه‌ی تشریحی سؤالات و مسائل مسابقات ریاضی ششم دبستان

از مجموعه مرشد

پاسخ‌نامه‌ی تشریحی ۲۰۰۰ تست (شامل: تیزهوشان، آزمون‌های ورودی مدارس برتر تهران، مسابقات جهانی ریاضی، المپیادها و مسابقات علمی داخلی و خارجی و...) ۳۵۰ نکته‌ی کلیدی درس ریاضی دوره‌ی ابتدایی که دانش‌آموزان ممتاز باید فراگیرند.

پاسخ‌نامه‌ی تشریحی سؤالات آمادگی آزمون تیزهوشان
پاسخ تشریحی آزمون‌های تیزهوشان سال‌های اخیر

و حیداسی‌کیا

مرشد: مرجع رشد و شکوفایی دانش‌آموزان

ویژه دانش‌آموزان ممتاز و داوطلبان شرکت در مسابقات
و آزمون‌های ورودی مدارس تیزهوشان و برتر

بِسْمِ اللَّهِ الرَّحْمَنِ الرَّحِيمِ

به نام خداوند جان و خرد کزین برتر اندیشه برنگذرد

اگر در جستجوی کتابی هستید که شما را برای شرکت در مسابقات ریاضی یا آزمون‌های ورودی مدارس خاص و تیزهوشان آماده کند، کتاب «**مسابقات ریاضی نهم**» دبستان از مجموعه‌ی مرشد پاسخگوی نیاز شما خواهد بود.

در تألیف این کتاب از منابع متعددی استفاده شده است که از جمله‌ی آن‌ها می‌توان به موارد زیر اشاره کرد:

- آزمون‌های ورودی مدارس تیزهوشان و نمونه دولتی کشور و مدارس خاص و ممتاز کشور
- آزمون‌های داخلی مدارس تیزهوشان و ممتاز کشور
- آزمون‌های پیشرفت تحصیلی سمپاد و خانه‌ی ریاضی تهران
- مسایل مسابقات جهانی کانگورو و آزمون جهانی تیمز و ABC
- مسابقات علمی و المپیادهای ریاضی داخلی
- مسابقات و المپیادهای ریاضی کشورهای خارجی (انگلیس، مجارستان، بلژیک و...)
- مسایل المپیادهای ریاضی آمریکا (که جناب آقای محمد برجی اصفهانی در کتاب وزین خود، آن‌ها را در اختیار دانش‌آموزان عزیز قرار داده‌اند)
- مسایل المپیادهای مبتکران و تیزهوشان مبتکران
- پاسخ سؤالات آمادگی آزمون تیزهوشان

مسائل این آزمون‌ها، براساس فصل‌ها و بخش‌های کتاب درسی ششم دبستان طبقه‌بندی شده و از آسان به سخت مرتب گردیده‌اند. برخی از آن‌ها بدون راهنمایی و اشاره به نکته کلیدی قابل حل نیستند که با علامت \boxtimes مشخص شده‌اند تا دانش‌آموزان قبل از اقدام به حل آن‌ها، ابتدا نکته‌ی مورد نظر را مطالعه کنند.

کتاب مرشد، در مجموع حدود ۲۰۰۰ تست را شامل می‌شود و بیش از ۳۵۰ نکته‌ی کلیدی را آموزش می‌دهد. امیدواریم این کتاب مورد توجه خانواده‌ها، دانش‌آموزان عزیز و معلمان گرامی قرار گیرد و در ارتقای سطح علمی دانش‌آموزان مؤثر افتد.

در پایان، وظیفه خود می‌دانیم از جناب آقای دهقانی مدیر عامل محترم شرکت آموزشی، فرهنگی و انتشاراتی مبتکران که شرایط و امکانات چاپ کتاب را فراهم آوردند، سپاس‌گزاری کنیم. همین‌طور از آقای مهندس هادی عزیززاده که در تمام مراحل تألیف این کتاب مشاور ما بودند و ویرایش علمی بخش‌هایی از آن را بر عهده گرفتند، متشکریم. از خانم مهندس ندا قدسی و از آقایان دکتر مجید اقبالی و دکتر ناصر کاهه و اباصلت نوراللهی و مهندس کیارش قربانی که در ترجمه یا گردآوری و ویرایش بخشی از مسایل کتاب، ما را یاری کردند، صمیمانه سپاس‌گزاریم. از خانم لیلا مهرعلی‌پور که زحمت حروف‌چینی و ترسیم شکل‌ها را برعهده داشتند بسیار ممنونیم و برای همه‌ی این عزیزان آرزوی موفقیت داریم.

وحدی‌اسدی‌کیا



۷۱

فصل ۲ کسر

فصل ۱ عدد و الگوهای عددی

۷

قسمت اول: الگوهای عددی و عدد نویسی

۳۹

قسمت دوم: بخش پذیری و اعداد صحیح

۱۲۱

فصل ۴ تقارن و مختصات

۱۰۹

فصل ۳ اعداد اعشاری

۲۲۹

فصل ۶ تناسب و درصد

۱۴۹

قسمت اول: طول، سطح، حجم و جرم

۲۰۵

قسمت دوم: خط و زاویه

۲۶۹

پرستش‌های آمادگی پاسخ‌نامه آزمون تیزهوشان

۲۶۱

فصل ۷ تقریب

فهرست

۲۹۱

آزمون ورودی مدارس تیزهوشان نمونه دولتی پاسخ‌نامه

فصل ۱

عدد و الگوهای عددی

قسمت اول: الگوهای عددی و عدد نویسی

درس اول: الگوهای عددی

الگویابی تصویری

۱. گزینه ب

نکته ۱: در حل مسایل الگویابی تصویری، با توجه به شکل‌های داده شده، باید رابطه‌ای بین شماره‌ی شکل و تعداد خواسته شده در مسئله به دست آورد.
- در بعضی مسایل الگویابی که فقط تعداد در شکل بعدی خواسته شده است، می‌توان ارتباط هر شکل را با شکل بعدی پیدا کرد.
- در حل مسایل الگویابی، گاهی می‌توان بیش از یک الگو به دست آورد.

با توجه به نکته‌ی (۱)، جدول زیر را تشکیل می‌دهیم:

شماره‌ی شکل	۱	۲	۳	...	۱۰۰
تعداد چندضلعی‌ها	۱	۴	۷	...	$(100-1) \times 3 + 1 = 298$
رابطه	$(1-1) \times 3 + 1$	$(2-1) \times 3 + 1$	$(3-1) \times 3 + 1$...	$(n-1) \times 3 + 1$ (شماره‌ی شکل)

۲. گزینه الف

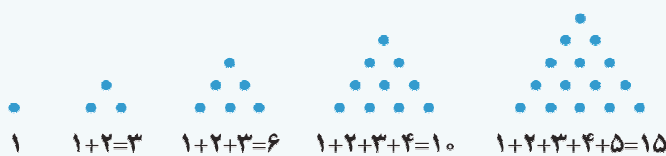
شماره‌ی شکل	۱	۲	۳	...	۲۵
تعداد چوب‌کبریت‌ها	۵	۱۳	۲۱	...	$(8 \times 24) + 5 = 197$
رابطه	$(8 \times 0) + 5$	$(8 \times 1) + 5$	$(8 \times 2) + 5$...	$8 \times (n-1) + 5$ (شماره‌ی شکل)

۳. گزینه ب

شماره‌ی شکل	۱	۲	۳	...	۳۰
تعداد چوب‌کبریت	۴	۱۰	۱۸	...	$30 \times 33 = 990$
رابطه	1×4	2×5	3×6	...	$(3 + \text{شماره شکل}) \times \text{شماره شکل}$

۴. گزینه ج

نکته ۲: مجموع اعداد طبیعی متوالی از ۱ تا n برابر است با: $1+2+3+4+5+\dots+n = \frac{n \times (n+1)}{2}$
توجه: به رابطه‌ی فوق، رابطه‌ی «گاوس» (نام دانشمند ریاضی) نیز می‌گویند.



نکته ۳: اعداد مثلثی: اعداد مثلثی از مجموع اعداد متوالی طبیعی (شروع از ۱) به دست می‌آیند:

به اعداد $1, 3, 6, 10, 15, 21, 28, 36, 45, \dots$ که با الگوی فوق حاصل می‌شوند، اعداد مثلثی می‌گویند.

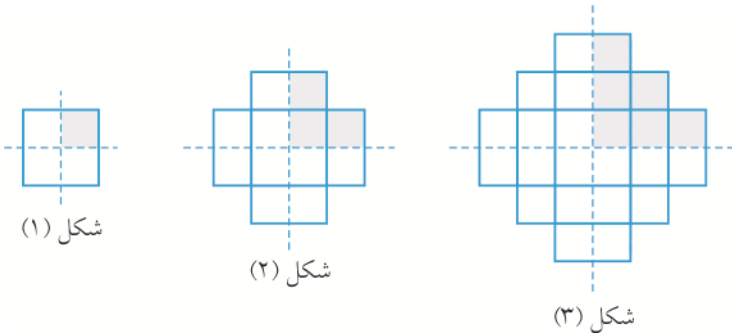
با توجه به نکات گفته شده، شکل صدم از $1+2+3+4+\dots+100 = \frac{100 \times 101}{2} = 5050$ دایره تشکیل شده است.

۵. گزینه د
تعداد مربع‌ها اعداد مثلثی هستند. پس در شکل بیستم، $1+2+3+4+\dots+20 = \frac{20 \times 21}{2} = 210$ مربع کوچک

وجود دارد.

۶. گزینه د
با توجه به شکل‌های مقابل،

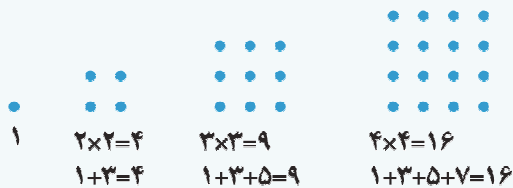
مشخص می‌شود که باید چهار برابر عدد مثلثی شصت و ششم را به دست آورد. داریم:



$$4 \times \frac{66 \times 67}{2} = 2 \times 66 \times 67 = 8844$$

۷. گزینه ج

نکته ۴: اعداد مربعی: اعداد مربعی از مجموع اعداد طبیعی فرد متوالی (شروع از ۱) به دست می‌آیند:




– اعداد مربعی را می‌توان به صورت زیر نیز چیش کرد:



– هر عدد مربعی را می‌توان به صورت مجموع دو عدد مثلثی نوشت.

به طور مثال چهارمین عدد مربعی از مجموع سومین و چهارمین



عدد مثلثی به دست می‌آید:

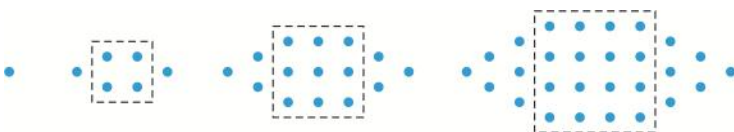
با توجه به نکته‌ی (۴)، در شکل هشتم، تعداد مثلث‌های کوچک $8 \times 8 = 64$ است.

به هر یک از اعداد مربعی، ۴ واحد افزوده شده است:

۸. گزینه ج

شماره‌ی شکل	۱	۲	۳	۴	...	۱۰
تعداد دایره‌ها	۵	۸	۱۳	۲۰	...	$10 \times 10 + 4 = 104$
رابطه	$1 \times 1 + 4$	$2 \times 2 + 4$	$3 \times 3 + 4$	$4 \times 4 + 4$...	$4 + \text{شماره شکل} \times \text{شماره شکل}$

۹. گزینه الف
تعداد نقاط داخل نقطه‌چین، اعداد مربعی و بیرون آن تعداد نقاط، اعداد مثلثی هستند:



پس تعداد نقاط در شکل هشتاد و سوم، از مجموع هشتاد و سومین عدد مربعی با ۲ برابر هشتاد و دومین عدد مثلثی حاصل می‌شود.

$$83 \times 83 + 2 \times \frac{82 \times 83}{2} = 83 \times (83 + 82) = 13695$$

داریم:

۱۰. گزینه الف

نکته ۵: به الگوهای عددی زیر توجه کنید:

$$\begin{aligned} 1+2+1 &= 4 = 2 \times 2 \\ 1+2+3+2+1 &= 9 = 3 \times 3 \\ 1+2+3+4+3+2+1 &= 16 = 4 \times 4 \\ &\vdots \\ 1+2+3+4+\dots+n+\dots+1 &= n \times n \end{aligned}$$

با توجه به نکته (۵)، تعداد مربع‌ها در شکل بیستم برابر است با: $20 \times 20 = 400$

۱۱. گزینه ج

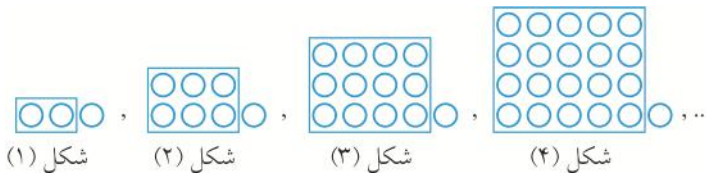
نکته ۶: اعداد مستطیلی: به اعداد $2, 6, 12, 20, 30, 42, 56, \dots$ اعداد مستطیلی می‌گویند. زیرا:

$$1 \times 2 = 2, 2 \times 3 = 6, 3 \times 4 = 12, 4 \times 5 = 20, \dots$$

- هر یک از اعداد مستطیلی، از ضرب دو عدد طبیعی متوالی حاصل می‌شود.
- هر عدد مستطیلی، از مجموع اعداد زوج متوالی (شروع از ۲) به دست می‌آید. مثلاً چهارمین عدد مستطیلی برابر است با:
 $2+4+6+8=20$

با توجه به نکته (۶)، ۶۹ امین شکل دارای $69 \times 70 = 4830$ نقطه است.

۱۲. گزینه د



در واقع به هر یک از اعداد مستطیلی، یک واحد افزوده شده است.

شماره‌ی شکل	۱	۲	۳	...	۱۲
تعداد مهره‌ها	۳	۷	۱۳	...	$(12 \times 13) + 1 = 157$
رابطه	$(1 \times 2) + 1$	$(2 \times 3) + 1$	$(3 \times 4) + 1$...	$1 + (\text{یکی بیش‌تر} \times \text{شماره‌ی شکل})$

۱۳. گزینه د

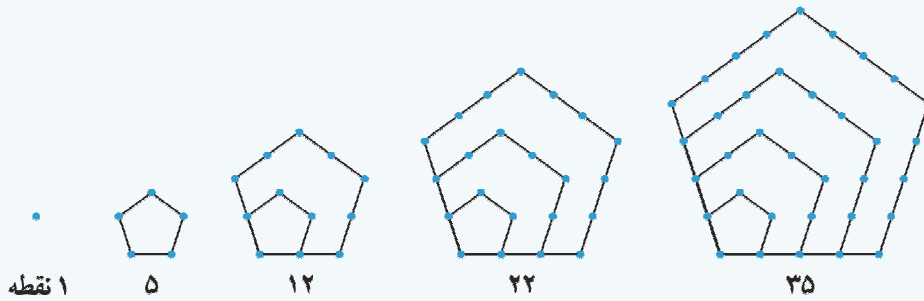
روش اول: از هر یک اعداد مستطیلی ۲ واحد کم شده است:

شماره‌ی شکل	۱	۲	۳	...	۲۸
تعداد مهره‌ها	۴	۱۰	۱۸	...	$(29 \times 30) - 2 = 867$
رابطه	$(2 \times 3) - 2$	$(3 \times 4) - 2$	$(4 \times 5) - 2$...	$2 - (\text{شماره‌ی شکل} + 2) \times \text{شماره‌ی شکل} + 1$

روش دوم:

شماره‌ی شکل	۱	۲	۳	...	۲۸
تعداد مهره‌ها	۴	۱۰	۱۸	...	$(28 \times 30) + 28 = 868$
رابطه	$(1 \times 3) + 2$	$(2 \times 4) + 2$	$(3 \times 5) + 3$...	شماره‌ی شکل + (شماره‌ی شکل + ۲) × شماره‌ی شکل

نکته ۷: اعداد مخمسی: به هر یک از شکل‌های زیر توجه کنید:



به اعداد طبیعی $1, 5, 12, 22, 35, 51, 70, 92, \dots$ اعداد مخمسی می‌گویند. برای به دست آوردن تعداد نقطه‌ها در هر شکل، تعداد نقطه‌هایی را که روی یک ضلع بیرونی قرار دارند را در خودش ضرب کرده و حاصل را با مجموع اعداد طبیعی و متوالی کم‌تر از آن جمع می‌کنیم.

به طور مثال در شکل چهارم تعداد نقاط برابر است با: $(4 \times 4) + (1 + 2 + 3) = 22$

توجه: به دنباله‌هایی از عددهای طبیعی که اولین عدد آن‌ها ۱ و بقیه‌ی اعداد آن‌ها معرف دسته‌ای از چندجمله‌ای‌های منتظم باشد، اعداد مَصَوَّر می‌گویند. اعداد مثلثی، مربعی و مخمسی و مسدسی از این نوع اعداد یعنی مصوّر هستند. روش‌های دیگری نیز برای شمارش نقاط این گونه شکل‌ها وجود دارد.

با توجه به نکته‌ی (۷)، تعداد نقاط در شکل صدم برابر است با: $(100 \times 100) + (1 + 2 + 3 + \dots + 99) = 10000 + \frac{99 \times 100}{2} = 14950$

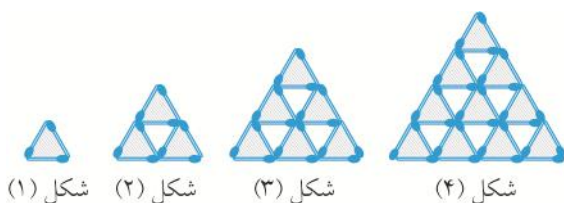
شماره‌ی شکل	۱	۲	۳	...	۱۰
تعداد مکعب کوچک	۱	۸	۲۷	...	$10 \times 10 \times 10 = 1000$
رابطه	$1 \times 1 \times 1$	$2 \times 2 \times 2$	$3 \times 3 \times 3$...	شماره‌ی شکل \times شماره‌ی شکل \times شماره‌ی شکل

شماره‌ی مرحله	۱	۲	۳	...	۶
تعداد مربع	۱	۶	۱۱	...	$1 + (5 \times 5) = 26$
رابطه	$1 + (0 \times 5)$	$1 + (1 \times 5)$	$1 + (2 \times 5)$...	$1 + [(شماره‌ی مرحله) \times 5]$

شماره‌ی شکل	۱	۲	۳	...	۱۰
تعداد چوب‌کبریت	۱۲	۴۲	۹۰	...	۹۳۰
رابطه	$3 \times (3 + 1)$	$6 \times (6 + 1)$	$9 \times (9 + 1)$...	$(1 + شماره‌ی شکل) \times (3 \times شماره‌ی شکل)$

محیط مثلث‌های رنگ شده، با تعداد

چوب‌کبریت‌های شکل برابر است:



تعداد مثلث‌های رنگ شده در هر شکل، عدد مثلثی است:

شماره‌ی شکل	۱	۲	۳	۴	...	۱۰
تعداد مثلث‌های رنگی	۱	$1+2=3$	$1+2+3=6$	$1+2+3+4=10$...	$1+2+3+\dots+10=55$

$$55 \times 3 = 165$$

پس تعداد چوب‌کبریت‌ها در شکل دهم برابر است با:

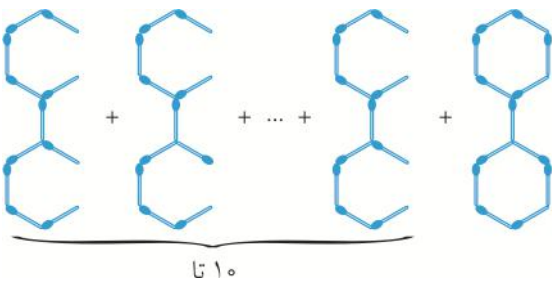
۱۹. گزینه هـ با توجه به این که تعداد چوب‌کبریت‌های کل از مجموع چوب‌کبریت‌های عمودی با افقی به دست می‌آید، می‌توان جدول را به شکل زیر کامل کرد:

شماره‌ی شکل	۱	۲	۳	...	۳۰	۳۱
تعداد چوب‌کبریت	۴	۱۲	۲۴	...	۱۸۶۰	۱۹۸۴
رابطه	$(1 \times 2) + (1 \times 2)$	$(2 \times 3) + (2 \times 3)$	$(3 \times 4) + (3 \times 4)$...	$(30 \times 31) + (30 \times 31)$	$(31 \times 32) + (31 \times 32)$

$$1984 - 1860 = 124$$

بنابراین اختلاف تعداد چوب‌کبریت‌های شکل ۳۰م و ۳۱م برابر است با:

۲۰. گزینه الف



کل شکل داده شده =

طبق الگوی مقابل، تعداد کل چوب‌کبریت‌های استفاده شده در شکل برابر با:

$$(11 \times 10) + 13 = 123$$

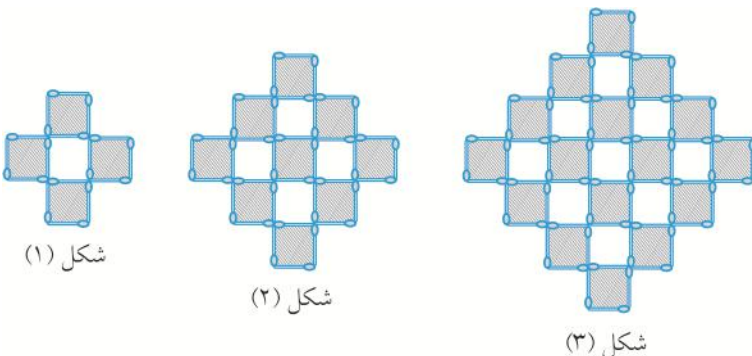
۲۱. گزینه د

شماره‌ی شکل	۱	۲	۳	...	۱۰
تعداد سطح‌ها	۶	۱۴	۲۴	...	۱۵۰
رابطه	$2 \times 1 + 1 \times 4$	$2 \times (1+2) + 2 \times 4$	$2 \times (1+2+3) + 3 \times 4$...	$2 \times (1+2+3+\dots+\text{شماره شکل}) + \text{شماره شکل} \times 4$

۲۲. گزینه ج

شماره‌ی شکل	۱	۲	۳	...	۱۰
تعداد مربع‌ها	۵	۱۳	۲۵	...	۲۲۱
رابطه	$(1 \times 1) + (2 \times 2)$	$(2 \times 2) + (3 \times 3)$	$(3 \times 3) + (4 \times 4)$...	عدد مربعی شماره شکل + عدد مربعی شماره بعدی آن

۲۳. گزینه الف کافی است تعداد مربع‌های هاشورخورده (شکل زیر) را به دست آورده و در ۴ ضرب کنیم زیرا همه‌ی چوب‌کبریت‌های شکل، در محیط مربع‌های هاشورخورده به کار رفته‌اند. داریم:



شماره‌ی شکل	۱	۲	۳	...	۱۰
تعداد مربع‌های هاشورخورده	۴	۹	۱۶	...	۱۲۱
رابطه	۲×۲	۳×۳	۴×۴	...	۱۱×۱۱

پس تعداد چوب‌کبریت‌های به کار رفته در شکل دهم برابر است با: $۱۲۱ \times ۴ = ۴۸۴$

۲۴. گزینه هـ

(۱) شکل $\rightarrow (۱ \times ۱) + (۰ \times ۰) = ۱$

(۲) شکل $\rightarrow (۲ \times ۲) + (۱ \times ۱) = ۵$

(۳) شکل $\rightarrow (۳ \times ۳) + (۲ \times ۲) = ۱۳$

(۴) شکل $\rightarrow (۴ \times ۴) + (۳ \times ۳) = ۲۵$

⋮ ⋮

پس در شکل بیستم، $(۲۰ \times ۲۰) + (۱۹ \times ۱۹) = ۷۶۱$ نقطه وجود دارد.

۲۵. گزینه ب

شماره‌ی شکل	۱	۲	۳	۴	...	۲۰
تعداد مکعب‌ها	۴	۹	۱۶	۲۵	...	۴۴۱
رابطه	۲×۲	۳×۳	۴×۴	۵×۵	...	$(۲۰+۱) \times (۲۰+۱)$

۲۶. گزینه الف برای ساختن مثلث اول، ۳ خلال و برای ساختن هر کدام از مثلث‌های دیگر، ۲ خلال استفاده می‌شود. پس اگر ۳

خلال اولیه را کنار بگذاریم، با $۸۶ - ۳ = ۸۳$ خلال می‌توان $۸۶ \div ۲ = ۴۳$ مثلث دیگر ساخت که با مثلث اولیه می‌شود:

مثلث $۱ + ۴۳ = ۴۴$

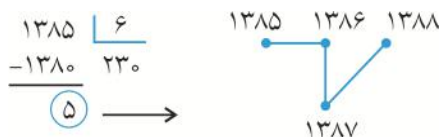
۲۷. گزینه ب

شماره‌ی شکل	۱	۲	۳	...
تعداد میله‌ها	$۸ + ۴$	$۸ + ۸ + ۴$	$۸ + ۸ + ۸ + ۴$...
رابطه	$۱ \times ۸ + ۴$	$۲ \times ۸ + ۴$	$۳ \times ۸ + ۴$...

از الگوی به دست آمده مشخص می‌شود که اگر از تعداد چوب‌کبریت‌ها ۴ تا کم کنیم، حاصل باید بر ۸ بخش‌پذیر باشد. در بین گزینه‌ها فقط عدد ۱۴۳۶ این خاصیت را دارد.

۲۸. گزینه ج شکل پس از هر ۶ مرحله، تکرار می‌شود.

باقی‌مانده‌ی تقسیم مقابل، شروع مرحله‌ی ۱۳۸۵ را نمایش می‌دهد:



تعداد کل سیب‌ها برای ساخت هرم ۶ طبقه، طبق الگوی داده شده برابر است با:

۲۹. گزینه ج

$(۱ \times ۱) + (۲ \times ۲) + (۳ \times ۳) + (۴ \times ۴) + (۵ \times ۵) + (۶ \times ۶) = ۹۱$

۳۰. گزینه ج

شماره‌ی شکل	۱	۲	۳	...	۵۰
تعداد مربع‌های مشکی	۱	$۱ + ۲ = ۳$	$۱ + ۲ + ۳ = ۶$...	$۱ + ۲ + ۳ + \dots + ۵۰ = \frac{۵۰ \times ۵۱}{۲} = ۱۲۷۵$
تعداد کل مربع‌ها	۱	$۱ + ۳ = ۴$	$۱ + ۳ + ۵ = ۹$...	$۱ + ۳ + ۵ + ۷ + \dots + ۹۹ = ۵۰ \times ۵۰ = ۲۵۰۰$

۳۱. گزینه د
تعداد کل مربع‌های کوچک در هر شکل، یک عدد مربعی است. بنابراین در شکل دوازدهم $12 \times 12 = 144$ مربع کوچک وجود دارد. از طرفی تعداد مربع‌های رنگ شده در هر شکل نیز یک عدد مثلثی است. و تعداد مربع‌های رنگ شده در شکل دوازدهم با یازدهمین عدد مثلثی برابر است. پس $\frac{11 \times 12}{2} = 66$ مربع رنگ شده در شکل دوازدهم وجود دارد. بنابراین تعداد مربع‌های رنگ نشده در شکل دوازدهم برابر است با: $144 - 66 = 78$ و در نتیجه نسبت $\frac{66}{78} = \frac{11}{13}$ می‌شود.

۳۲. گزینه د

شماره‌ی شکل	۱	۲	۳	...	۱۵
تعداد خانه‌های سیاه	۱	۵	۱۳	...	۴۲۱
رابطه	$\frac{(1 \times 1) + 1}{2}$	$\frac{(3 \times 3) + 1}{2}$	$\frac{(5 \times 5) + 1}{2}$...	$\frac{(29 \times 29) + 1}{2}$

۳۳. گزینه ج
تعداد مربع‌های سفید در شکل اول $8 = (3 \times 3) - (1 \times 1)$ و در شکل دوم $21 = (5 \times 5) - (2 \times 2)$ و در شکل سوم $40 = (7 \times 7) - (3 \times 3)$ است. پس تعداد مربع‌های سفید در شکل چهارم برابر است با $65 = (9 \times 9) - (4 \times 4)$.

۳۴. گزینه د
ابتدا گوشه‌های هر شکل را کامل کرده، سپس از تعداد کل، تعداد مربع‌های سیاه را کم کرده و در پایان، ۴ تا از آن کم می‌کنیم:

شماره‌ی شکل	۱	۲	۳	...	۱۰
تعداد مربع‌های سفید	۲۰	۲۸	۳۶	...	۹۲
رابطه	$(5 \times 5) - (1 \times 1) - 4$	$(6 \times 6) - (2 \times 2) - 4$	$(7 \times 7) - (3 \times 3) - 4$...	$(4 + \text{شماره‌ی شکل}) \times (4 + \text{شماره‌ی شکل}) - 4$

۳۵. گزینه ب
طبق الگوی داده شده، در شکل سی و دوم که از مربعی به ضلع ۳۳ واحد تشکیل شده است، ۳۳ مربع روی هر قطر وجود دارد و چون یکی از مربع‌ها مشترک است، پس در شکل سی و دوم $65 = 2 \times 33 - 1$ مربع کوچک رنگ شده است. هم‌چنین در شکل بیست و پنجم که از مربعی به ضلع ۲۶ واحد تشکیل شده است، ۲۶ مربع روی هر قطر وجود دارد (و بدون مربع مشترک) پس $52 = 2 \times 26$ مربع کوچک رنگ شده است که در نتیجه اختلاف آن‌ها $13 = 65 - 52$ مربع است.

۳۶. گزینه د

نکته ۸: تعداد مربع‌ها به هر اندازه در هر مربع به ضلع n برابر است با:

$$(1 \times 1) + (2 \times 2) + (3 \times 3) + \dots + (n \times n)$$

$1 =$ تعداد مربع‌ها در شکل ۱

$1 + 4 = 5$ = تعداد مربع‌ها در شکل ۲

$1 + 4 + 9 = 14$ = تعداد مربع‌ها در شکل ۳

$1 + 4 + 9 + 16 = 30$ = تعداد مربع‌ها در شکل ۴

⋮

$1 + 4 + 9 + 16 + 25 + 36 + 49 + 64 = 204$ = تعداد مربع‌ها در شکل ۸

۳۷. گزینه ب
مطابق الگو، در شکل پنجم مربعی به ضلع ۹ خواهیم داشت که از $9 \times 9 = 81$ مربع کوچک درست شده است و چون در هر شکل، تعداد مربع‌های هاشورخورده یکی بیش‌تر از تعداد مربع‌های هاشورنخورده است، پس ۴۱ مربع هاشورخورده داریم. در نتیجه نسبت مربع‌های هاشورخورده به کل مربع‌ها در شکل پنجم، $\frac{41}{81}$ است.

کسر رنگ نشده در هر شکل را نوشته و الگو پیدا می‌کنیم. داریم:

۳۸. گزینه ج

شکل (۱) (۲) (۳) (۴) (۱۰)

کسر: $\frac{0}{1}, \frac{1}{1+3}, \frac{1+2}{1+3+5}, \frac{1+2+3}{1+3+5+7}, \dots, \frac{1+2+3+\dots+9}{1+3+5+\dots+19} = \frac{45}{100} = \frac{9}{20}$

با تشکیل جدول زیر داریم:

۳۹. گزینه الف

شماره‌ی شکل	۱	۲	۳	۴
تعداد دایره‌های رنگی	$1 \times 1 = 1$	$2 \times 2 = 4$	$3 \times 3 = 9$	$4 \times 4 = 16$
تعداد دایره‌های سفید	۰	$1 \times 1 = 1$	$2 \times 2 = 4$	$3 \times 3 = 9$
تعداد کل دایره‌ها	$0 + 1 = 1$	$1 + 4 = 5$	$4 + 9 = 13$	$9 + 16 = 25$

بنابراین در شکل دهم، $10 \times 10 = 100$ دایره‌ی رنگی داریم و تعداد کل دایره‌ها $(9 \times 9) + (10 \times 10) = 181$ است. در نتیجه نسبت دایره‌های رنگی به کل دایره‌ها در شکل دهم عبارت است از $\frac{100}{181}$.

الگو به صورت زیر است:

۴۰. گزینه الف

$$\begin{array}{cccc} \times 2 & \times 2 & \times 2 & \times 2 \\ \frac{2}{3} \rightarrow \frac{4}{9} \rightarrow \frac{8}{27} \rightarrow \frac{16}{81} \rightarrow \frac{32}{243} \\ \times 3 & \times 3 & \times 3 & \times 3 \end{array}$$

در هر شکل نسبت قسمت رنگ شده به کل را نوشته و بین کسرهای الگو پیدا می‌کنیم. داریم: $\frac{1}{2}, \frac{2}{5}, \frac{5}{11}, \frac{11}{23}$ ؟

۴۱. گزینه ج

مشخص است که غیر از کسر اول، در بقیه‌ی کسرهای صورت هر کسر دو برابر شده و یک واحد به آن افزوده شده و در مخرج قرار گرفته است. در ضمن صورت هر کسر، مخرج کسر قبلی است. پس کسر هاشورخورده در شکل پنجم، $\frac{23}{47}$ است.

در مرحله‌ی اول نسبت خانه‌های سیاه به خانه‌های سفید $\frac{4}{1}$ می‌باشد، در مرحله دوم ۴ تا به خانه‌های سفید، در

۴۲. گزینه ب

مرحله سوم ۴ تا به خانه‌های سیاه و... اضافه می‌شود. حاصل الگو به صورت زیر است:

$$\begin{array}{cccccc} +4 & +4 & +4 & +4 & +4 \\ \frac{4}{1} \rightarrow \frac{4}{5} \rightarrow \frac{8}{9} \rightarrow \frac{12}{13} \rightarrow \frac{16}{17} \rightarrow \frac{20}{21} \\ +4 & +4 & +4 & +4 & +4 \end{array}$$

با توجه به جدول زیر، مشخص است که از ستون سوم به بعد، اعداد هر ستون از مجموع دو اعداد قبل در همان

۴۳. گزینه د

ردیف به دست آمده است. پس در انتهای مرحله‌ی ۱۱، تعداد مثلث‌ها ۱۲۳ می‌باشد:

شماره‌ی شکل	۱	۲	۳	۴	۵	۶	۷	۸	۹	۱۰	۱۱
تعداد دایره‌ها	۱	۱	۳	۴	۷	۱۱	۱۸	۲۹	۴۷	۷۶	۱۲۳
تعداد مثلث‌ها	۲	۱	۳	۴	۷	۱۱	۱۸	۲۹	۴۷	۷۶	۱۲۳
تعداد مربع‌ها	۰	۲	۱	۳	۴	۷	۱۱	۱۸	۲۹	۴۷	۷۶

درس دوم: الگویابی عددی

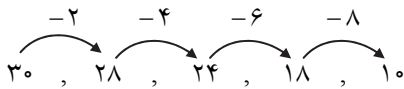
۴۴. گزینه ب

$$\begin{array}{cccc} +0/5 & +0/25 & +0/125 \\ 1, & 1/5, & 1/25, & 1/125 \end{array}$$

دنباله‌ی فیبوناتچی: دو جمله‌ی قبل با هم جمع می‌شوند و جمله‌ی بعدی حاصل می‌شود.

۴۵. گزینه الف

۴۶. گزینه ج



$$(3 \times 3) - 1 = 8$$

از عدد دوم به بعد، هر عدد برابر است با سه برابر عدد قبل منهای یک:

$$(3 \times 8) - 1 = 23, (3 \times 23) - 1 = 68, (3 \times 68) - 1 = 203$$

$$1 \div 2 = 0,5 \rightarrow 1 + 0,5 = 1,5, 1,5 \div 2 = 0,75 \rightarrow 1,5 + 0,75 = 2,25, 2,25 \div 2 = 1,125$$

$$\rightarrow 2,25 + 1,125 = 3,375 \rightarrow 3,375 \div 2 = 1,6875 \rightarrow 3,375 + 1,6875 = 5,0625$$

هر عدد از حاصل ضرب ارقام عدد قبلی به دست می‌آید:

$$77 \rightarrow 7 \times 7 = 49 \rightarrow 4 \times 9 = 36 \rightarrow 3 \times 6 = 18 \rightarrow 1 \times 8 = 8$$

۴۷. گزینه ج

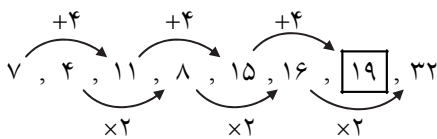
۴۸. گزینه د

۴۹. گزینه ب

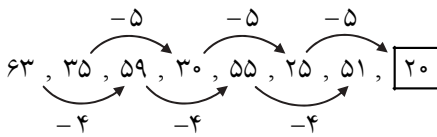
۵۰. گزینه ب

نکته ۹: اگر در دنباله‌ای از اعداد، نتوان رابطه‌ی بین جملات متوالی آن پیدا کرد، پس رابطه‌ای بین جملات

نامتوالی آن (مثلاً یکی در میان) پیدا می‌کنیم. به حل سؤال ۵۰ و ۵۱ و ۵۲ توجه کنید.

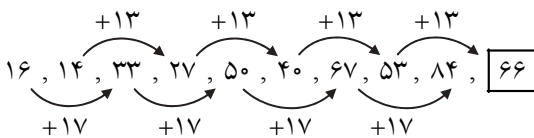


۵۱. گزینه الف



جملات یکی در میان با هم ارتباط دارند:

۵۲. گزینه الف



اعداد نوشته شده، شماره‌های (مقسوم‌علیه‌های) عدد ۳۶ هستند.

۵۳. گزینه د

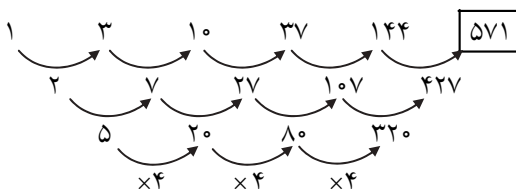
۵۴. گزینه ج

نکته ۱۰: پیدا کردن الگو با استفاده از به دست آوردن اختلاف (تفاضل) جملات متوالی: در این روش با

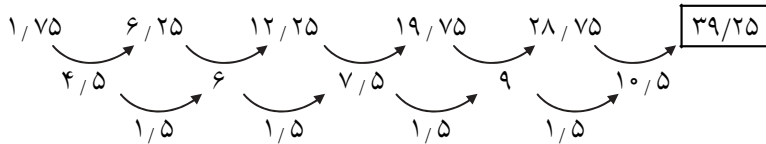
به دست آوردن اختلاف (تفاضل) جملات متوالی الگوی داده شده، در چند مرحله می‌توان به یک الگو یا عدد

ثابت رسید و سپس با تکمیل کردن هر مرحله‌ی قبل، الگو را کامل کرد. به حل سؤال ۵۴ و ۵۵ توجه کنید.

با توجه به نکته‌ی (۱۰) داریم:



۵۵. گزینه ج



۵۶. گزینه ج
مجموع ارقام در هر عدد را در نظر بگیرید:

عدد: $2/014$, $3/041$, $4/041$, $4/06$, $5/123$

جمع رقم‌ها: ۷ ۸ ۹ ۱۰ ۱۱

در میان گزینه‌ها، فقط مجموع ارقام $6/321$ ، عدد ۱۲ می‌شود.

۵۷. گزینه الف
دهمین عدد، $10 \times 10 = 100$ است.

۵۸. گزینه د
هر عدد طبیعی ۳ مرتبه در خودش ضرب و از حاصل یک واحد کم شده است. پس دهمین عدد،

$$999 = 1 - (10 \times 10 \times 10) \text{ است.}$$

۵۹. گزینه الف



۶۰. گزینه ج
تعداد اعداد نوشته شده تا عدد ۱۲ برابر است با ۷۸ تا. زیرا $\frac{12 \times 13}{2} = 78 = 1 + 2 + 3 + 4 + \dots + 12$. یقیناً

هشتاد و یکمین عدد ۱۳ است زیرا بعد از ۱۲ باید ۱۳ بار عدد ۱۳ را بنویسیم.

۶۱. گزینه د

نکته ۱۱: در هر سری عددی از دنباله‌ای اعداد طبیعی داریم:

$$\text{فاصله‌ی دو عدد متوالی} \times (n-1) + \text{اولین عدد} = \text{عدد } n\text{م}$$

با استفاده از نکته‌ی (۱۱) داریم: $298 = 1 + (99 \times 3) = 1 + 3 \times (100 - 1) + \text{اولین عدد} = \text{عدد صدم}$

۶۲. گزینه ب

نکته ۱۲: برای به دست آوردن تعداد دنباله‌ای از اعداد طبیعی که اختلاف هر دو عدد متوالی آن، مقدار ثابتی

$$\text{است، از رابطه‌ی مقابل استفاده می‌کنیم:} \quad \text{عدد اول} - \text{عدد آخر} + 1 = \frac{\text{فاصله‌ی دو عدد متوالی}}{\text{تعداد}}$$

طبق نکته‌ی (۱۲) داریم: $\frac{528-3}{7} + 1 = 76$

۶۳. گزینه د
با توجه به رابطه‌ی نکته‌ی (۱۱)، اگر در دنباله‌ی (۱) از عدد مورد نظر، ۷ واحد کم کنیم، حاصل باید بر ۱۵

بخش پذیر باشد زیرا در دنباله‌ی $7, 22, 37, 52, \dots$ فاصله‌ی هر دو عدد متوالی، ۱۵ است. هم‌چنین در دنباله‌ی (۲) اگر از عدد مورد نظر، ۱۰ واحد کم کنیم، حاصل باید بر ۹ بخش‌پذیر باشد زیرا در دنباله‌ی $10, 19, 28, 37, \dots$ فاصله‌ی هر دو عدد متوالی ۹ است. در میان گزینه‌ها، فقط عدد ۳۵۲ این دو ویژگی را دارد.

۶۴. گزینه د
اگر دقت کنید، متوجه می‌شوید که اختلاف اعداد تغییر نمی‌کند! زیرا به هر دو عدد، عدد سوم اضافه می‌شود،

پس مجموع تغییر کرده ولی اختلاف دو عدد جدید، نسبت به قبل ثابت و بدون تغییر می‌ماند. پس با شروع از $\{20, 1, 3\}$ و 2013 بار نوشتن «لیست جمع» حداکثر اختلاف بین دو عدد در لیست همان $19 = 20 - 1$ می‌باشد.

۶۵. گزینه الف رقم‌ها را بخوانید و بنویسید!

۱۱۱۲۲۱ → یکی ۱ و یکی ۴ و دو تا یک → ۱۲۱۱ → یکی ۴ و یکی ۱ → ۲۱ → دو تا یک → ۱۱ → یکی یک → ۱

پس عدد بعدی می‌شود: سه تا ۱ و دو تا ۲ و یکی یک ← ۳۱۲۲۱۱

۶۶. گزینه الف اعداد به صورت مقابل می‌شوند: ۱۲, ۵, ۲۵, ۲۹, ۱۵, ۸۹, ۱۴۵, ۴۲, ۲۰, ۴, ۱۶, ۳۷, ۵۸, ۱۹, ۱۴۵, ۴۲, ۲۰, ...

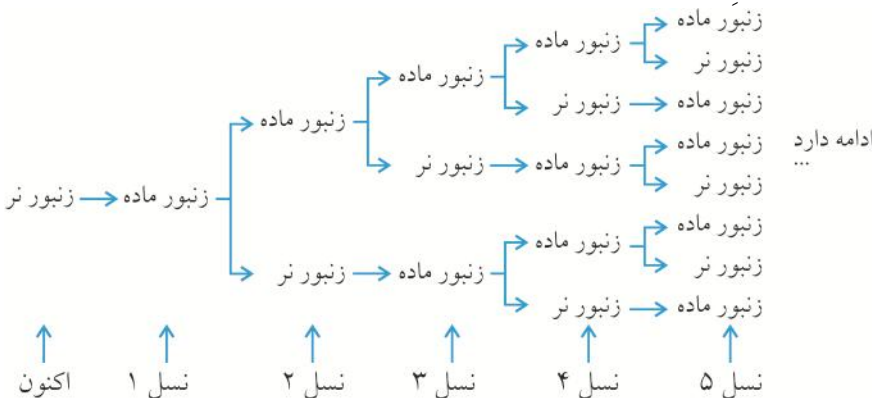
مشاهده می‌شود اعداد ۸۹, ۱۴۵, ۴۲, ۲۰, ۴, ۱۶, ۳۷, ۵۸ از عدد پنجم به بعد تکرار می‌شوند. پس می‌توان نوشت:

$$\begin{array}{r} 2005 - 5 = 2000 \rightarrow 2000 \quad | \quad 8 \\ -2000 \quad 250 \\ \hline \textcircled{0} \end{array}$$

باقی مانده صفر شده است. پس ۲۰۰۵ آمین عدد، همان هشتمین عدد تکرار شونده یعنی ۵۸ است.

۶۷. گزینه الف اولین نسل قبل یک زنبور عسل نر، یک مادر (ماده) وجود دارد. دومین نسل قبلی یک زنبور عسل نر، یک زنبور

پدر (نر) و یک زنبور مادر (ماده) وجود دارد و... به نمودار شاخه‌ای زیر توجه کنید:



تعداد زنبورها برابر می‌شود با ۱, ۲, ۳, ۵, ۸, ۱۳, ۲۱, ۳۴, ۵۵, ۸۹... که مشخص است هر عدد از مجموع دو عدد قبلی به دست می‌آید. پس داریم:

۱, ۲, ۳, ۵, ۸, ۱۳, ۲۱, ۳۴, ۵۵, ۸۹

پس نتیجه می‌شود در ۱۰ نسل قبل، ۸۹ زنبور (جد) وجود داشته است.

۶۸. گزینه ج با توجه به جدول زیر داریم:

مرحله	۱	۲	۳	...	(?)
تعداد مثلث	۵	۹	۱۳	...	۴۵
رابطه	۵	$5 + (1 \times 4)$	$5 + (2 \times 4)$...	$5 + ((? - 1) \times 4)$

$$\Rightarrow 5 + ((\square - 1) \times 4) = 45 \rightarrow (\square - 1) \times 4 = 40$$

اگر علامت سؤال را \square در نظر بگیریم، داریم:

$$\Rightarrow \square - 1 = 10 \Rightarrow \square = 11 \text{ در مرحله یازدهم}$$

الگویابی در چینش اعداد

۶۹. گزینه ه عدد‌ها، ۷ تا ۷ تا تکرار شده‌اند. پس با تقسیم بر ۷ و به دست آوردن باقی‌مانده داریم:

$$\begin{array}{r} 1000 \quad | \quad 7 \\ \vdots \quad 142 \\ \hline \textcircled{6} \end{array}$$

با توجه به باقی‌مانده ۶، عدد ۱۰۰۰ در ستون ششم یعنی F قرار می‌گیرد.

۷۰. گزینه ب با تکرار هر ۷ عدد، دوباره به A می‌رسیم. پس داریم:

$$\begin{array}{r} 300 \quad | \quad 7 \\ \vdots \quad 42 \\ \hline \textcircled{6} \end{array} \rightarrow$$

با قرار دادن ۶ عدد باقی‌مانده در ستون‌ها، عدد ۳۰۰ در ستون D قرار می‌گیرد.

۷۷. گزینه ب

ردیف‌ها با شماره‌ی زوج، عدد وسط ندارند. در ردیف‌های فرد داریم:

$$(1) \quad (0 \times 0) + (1 \times 1) = 1$$

$$(3) \quad (1 \times 1) + (2 \times 2) = 5$$

$$(5) \quad (2 \times 2) + (3 \times 3) = 13 = \left[\left(\frac{5-1}{2} \times \frac{5-1}{2} \right) + \left(\frac{5+1}{2} \times \frac{5+1}{2} \right) \right]$$

$$(7) \quad (3 \times 3) + (4 \times 4) = 25 = \left[\left(\frac{7-1}{2} \times \frac{7-1}{2} \right) + \left(\frac{7+1}{2} \times \frac{7+1}{2} \right) \right]$$

⋮

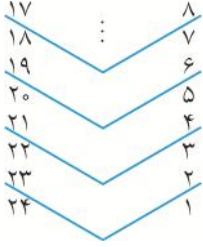
$$(51) \quad (25 \times 25) + (26 \times 26) = 625 + 676 = 1301$$

اگر روزنامه ۲۴ صفحه داشته باشد، صفحات ۱ و ۲، ۲۳ و ۲۴ در یک

۷۸. گزینه ج

برگ آن و صفحات ۳ و ۴، ۲۱ و ۲۲ در یک برگ آن و صفحات ۵ و ۶، ۱۹ و ۲۰ نیز در یک

برگ آن قرار می‌گیرند. (مطابق شکل مقابل)



۷۹. گزینه الف

به شکل توجه کنید. صندلی‌ها با عددهای زوج در سمت راست سالن قرار گرفته‌اند. عدد ۱۰۰ زوج است پس

پارسا باید یک عدد زوج را انتخاب کند تا به فرید نزدیک باشد. هر صندلی با صندلی کناری، دو عدد فاصله دارد و هم‌چنین هر

صندلی با صندلی پشتی خود، ۲۰ تا فاصله دارد. در شکل زیر مشخص شده است که صندلی ۱۱۸ نزدیک‌ترین صندلی به صندلی

شماره‌ی ۱۰۰ است:

عقب سالن	
۱۰۲ → ردیف ششم	۱۰۴ ۱۰۶ ۱۰۸ ۱۱۰ ... ۱۱۸ ۱۲۰
۸۲ → ردیف پنجم	۸۴ ۸۶ ۸۸ ۹۰ ... ۹۸ ۱۰۰
⋮	⋮
۲۲ → ردیف دوم	۲۴ ۲۶ ۲۸ ۳۰ ... ۳۸ ۴۰
۲ → ردیف اول	۴ ۶ ۸ ۱۰ ... ۱۸ ۲۰
جلوی سالن	

صندلی‌های سمت راست سالن

الگویابی و مجموع

۸۰. گزینه د

با الگویابی ساده، مشخص می‌شود که ردیف بیستم شکل از ۳۹ ستاره تشکیل شده است. برای به دست آوردن

تعداد ستاره‌های ۲۰ ردیف اول، باید اعداد فرد از ۱ تا ۳۹ را با هم جمع کنیم با استفاده از این نکته که مجموع اعداد فرد طبیعی از ۱

$$\frac{1+3+5+\dots+39}{\text{عدد } 20} = 20 \times 20 = 400$$

تا عددی فرد، برابر است با حاصل ضرب تعداد در تعدادشان، داریم:

۸۱. گزینه ج

با توجه به نکته‌ی گفته در سؤال قبل داریم:

$$(1) \quad 1 \times 1 = 1$$

$$(2) \quad 2 \times 2 = 4$$

$$(3) \quad 3 \times 3 = 9$$

⋮

$$(9) \quad 9 \times 9 = 81$$

$$(10) \quad 10 \times 10 = 100$$

$$\left. \begin{array}{l} \text{اختلاف} \\ \Rightarrow 100 - 81 = 19 \end{array} \right\}$$